

Résolution de problèmes

au **CP**

Période

1




Mon livret

Nom

Prénom

Classe

Problème n°1



Dans cette boîte, Papa a mélangé
des œufs frais et des œufs durs.
Il y a 2 œufs durs.


Combien y a-t-il d'œufs frais ?

Ma résolution

Ma réponse

Il y a œufs frais.

Problème n°2



J'ai ces stylos verts et 2 stylos rouges.
Combien de stylos ai-je en tout ?

Ma résolution

Ma réponse

J'ai stylos en tout.



J'ai 3 billes bleues et 5 billes vertes.
Combien de billes ai-je en tout ?



<http://g5.re/9hz>

J'ai billes en tout.



J'ai 5 billes rouges et vertes.
2 sont rouges.
Combien ai-je de billes vertes ?



<http://g5.re/9qy>

J'ai billes vertes.



En CP, il y a 4 garçons et 3 filles.
Quel est le nombre total d'élèves ?



Le nombre total d'élèves est



Ma sœur et moi, nous nous
partageons nos 7 porte-clés.
Elle en prend 5.

Combien de porte-clés aurai-je ?



J'aurai porte-clés.



Mohamed a 5 allumettes et Annie a 2 allumettes.

Cherche le nombre total d'allumettes.



<http://g5.re/m8k>

Le nombre total d'allumettes est



Nous sommes 6 en CP, dont 4 garçons.

Trouve le nombre de filles.



<http://g5.re/fkq>

Il y a filles.



Zia a acheté 3 bananes et 6 pommes.
Combien Zia a-t-elle acheté de fruits ?



<http://g5.re/x9n>

Zia a acheté fruits.




La maitresse a 7 gommes.
Elle en garde 2 pour elle.
Combien de gommes peut-elle prêter ?



<http://g5.re/gef>

Elle peut prêter gommes.

Problème n°1




J'ai ces petites cuillères et ces grandes cuillères.
Combien en ai-je en tout ?

Ma résolution

Ma réponse

J'ai cuillères en tout.

Problème n°2



J'ai 14 feutres en tout.

Trouve le nombre de feutres qui sont dans ma trousse.

Ma résolution

Ma réponse

Il y a feutres dans ma trousse.



Marc a 5 toupies. Aline en a 7.
Combien en ont-ils à eux deux ?



<http://g5.re/mgr>

Ils ont toupies à eux deux.



Kim a 12 bonbons en tout :
des sucettes et des caramels.
Elle a 5 caramels.

Combien a-t-elle de sucettes ?



<http://g5.re/ubt>

Kim a sucettes.



J'ai acheté 5 caramels et 12 sucettes.
Donne le nombre de bonbons
achetés.



<http://g5.re/ujr>

J'ai acheté bonbons.



Maman achète 8 stylos : 3 sont
pour ma sœur, les autres pour moi.
Combien de stylos aurai-je ?



<http://g5.re/dh9>

J'aurai stylos.



Samir a 6 billes et Léo a 3 billes.
Combien de billes ont-ils à eux deux ?



<http://g5.re/dak>

Ils ont billes à eux deux.



Samir a 4 balles.
Avec Léo, ils ont 9 balles.
Combien Léo a-t-il de balles ?



<http://g5.re/2jm>

Léo a balles.



Dans le bassin, Zoé a vu 10 poissons :
des truites et des saumons.
Il y a 7 saumons.

Donne le nombre de truites.



<http://g5.re/8as>

Il y a truites.



Dans la classe, il y a 5 fenêtres.
3 fenêtres sont ouvertes.

Quel est le nombre de fenêtres
fermées ?



<http://g5.re/eqx>

Il y a fenêtres fermées.

Problème n°1



J'achète une petite boule. J'ai 8 euros.
Combien d'argent va-t-il me rester ?

Ma résolution

Ma réponse

Il va me rester euros.

Problème n°2



J'ai 12 billes bleues et rouges. Voici mes billes bleues.
Quel est le nombre de billes dans la sacoche ?

Ma résolution

Ma réponse

Le nombre de billes
dans la sacoche est

1

J'achète 2 toupies : une à 5 euros
et une à 4 euros.

Combien vais-je payer ?



<http://g5.re/4k8>

Je vais payer euros.

2

Sam achète 2 toupies.
Il paye 12 euros.
Une des toupies coute 5 euros.

Quel est le prix de l'autre toupie ?



<http://g5.re/d7s>

Le prix de l'autre toupie est de euros.



Kali a 7 pulls et son frère en a 5.
Trouve le nombre total de pulls.



Le nombre total de pulls est



Papi achète 8 tickets de manège.
Il en donne 4 à mon frère,
les autres sont pour moi.
Combien aurai-je de tickets ?



J'aurai tickets.

5

Samir a 9 euros et Léo a 5 euros.
Quelle somme ont-ils à eux deux ?



<http://g5.re/4ef>

Ils ont euros à eux deux.

6

À la fête foraine, Diego a 8 tickets
et Sonia en a 3.
Combien en ont-ils à eux deux ?



<http://g5.re/25u>

Ils ont tickets à eux deux.



Dans le pré, il y a 2 vaches,
3 cochons et 1 cheval.

Quel est le nombre d'animaux
dans le pré ?



Il y a animaux dans le pré.



Papi a planté 9 arbres fruitiers :
4 pommiers et des orangers.

Trouve le nombre d'orangers.



Il y a orangers.

Je colorie quand j'ai réussi mon problème.

Unité 1

1	2	3	4
5	6	7	8



Unité 2

1	2	3	4
5	6	7	8



Unité 3

1	2	3	4
5	6	7	8

